

得分：

年 班 座號： 姓名：

一、圈圈看：(每個答案 0 分，共 0 分)

1. 下面圖形中，哪些有周界？用筆描出來。



2. 有 2 條一樣大的蛋糕。一條平分給 3 個男生，一條平分給 4 個女生。



1 個男生吃的蛋糕多，還是 1 個女生吃的蛋糕多？  
( 1 個男生 ， 1 個女生 )

3. 讀一讀，記一記，把正確的圈起來。

$$\frac{1}{6}$$

一分之六 六分之一

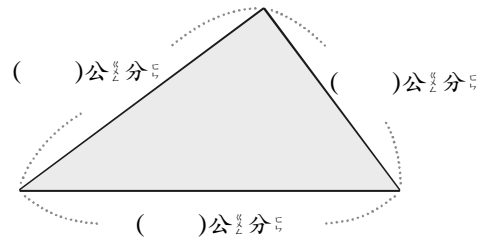
4. 「十分之一」記成  $(\frac{1}{10}, \frac{10}{1})$ 。

二、量量看，再回答問題：(每個答案 0 分，共 0 分)

5. 下面正方形的每條邊有 ( ) 公分；它的周長是 ( ) 公分。




6. 量一量，三角形的每條邊有多長？周長是多少公分？




答：( )

三、計算題：(每個答案 0 分，共 0 分)

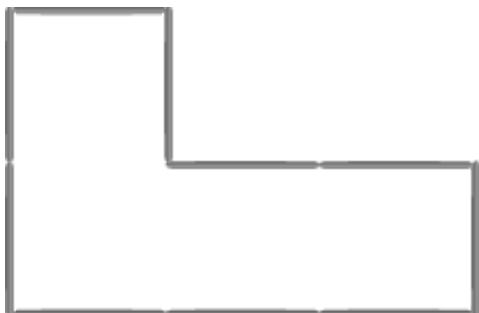
7. 下面圖形是用每條長 8 公分的棉繩圍出來的。它們的周長各是幾公分？




8. 下面是用每根長 10 公分的木棒圍出來的圖形，它的周長是多少公分？



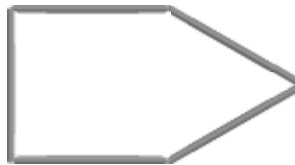
9. 下面是用每根長 10 公分的木棒圍出來的圖形，它的周長是多少公分？



10. 下面圖形是用每條長 8 公分的棉繩圍出來的。它們的周長各是幾公分？

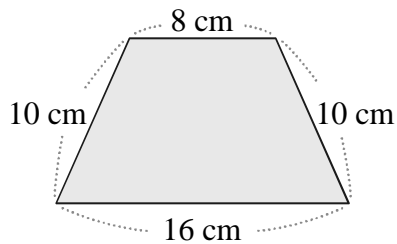


11. 下面是用每根長 10 公分的木棒圍出來的圖形，它的周長是多少公分？



#### 四、應用題：(每個答案 0 分，共 0 分)

12. 下圖的周長是幾公分？

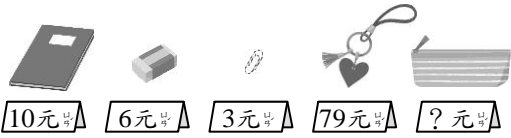


13. 一盒竹蜻蜓有 9 枝，桌上有 3 盒，賣掉 19 枝後，還剩下幾枝竹蜻蜓？

14. 寄一封平信要貼 8 元郵票，承恩寄 7 封，羽彤寄 5

封<sub>ㄟ</sub>，承<sub>ㄟ</sub>恩<sub>ㄟ</sub>比羽<sub>ㄟ</sub>彤<sub>ㄟ</sub>多<sub>ㄟ</sub>付<sub>ㄟ</sub>幾<sub>ㄟ</sub>元<sub>ㄟ</sub>？

15. 下<sub>ㄟ</sub>面<sub>ㄟ</sub>是<sub>ㄟ</sub>文<sub>ㄟ</sub>具<sub>ㄟ</sub>店<sub>ㄟ</sub>裡<sub>ㄟ</sub>賣<sub>ㄟ</sub>的<sub>ㄟ</sub>物<sub>ㄟ</sub>品<sub>ㄟ</sub>。



老<sub>ㄟ</sub>師<sub>ㄟ</sub>買<sub>ㄟ</sub>7本<sub>ㄟ</sub>筆<sub>ㄟ</sub>記<sub>ㄟ</sub>本<sub>ㄟ</sub>和<sub>ㄟ</sub>1個<sub>ㄟ</sub>鑰<sub>ㄟ</sub>匙<sub>ㄟ</sub>圈<sub>ㄟ</sub>，共<sub>ㄟ</sub>要<sub>ㄟ</sub>付<sub>ㄟ</sub>多<sub>ㄟ</sub>少<sub>ㄟ</sub>元<sub>ㄟ</sub>？

16. 一<sub>ㄟ</sub>包<sub>ㄟ</sub>卡<sub>ㄟ</sub>片<sub>ㄟ</sub>有<sub>ㄟ</sub>3張<sub>ㄟ</sub>，彥<sub>ㄟ</sub>辰<sub>ㄟ</sub>有<sub>ㄟ</sub>4包<sub>ㄟ</sub>，子<sub>ㄟ</sub>晴<sub>ㄟ</sub>有<sub>ㄟ</sub>5包<sub>ㄟ</sub>，兩<sub>ㄟ</sub>人<sub>ㄟ</sub>一<sub>ㄟ</sub>共<sub>ㄟ</sub>有<sub>ㄟ</sub>幾<sub>ㄟ</sub>張<sub>ㄟ</sub>卡<sub>ㄟ</sub>片<sub>ㄟ</sub>？

五、填填看：(每個答案 0 分，共 0 分)

17. 4 月<sub>ㄟ</sub>有<sub>ㄟ</sub>( )天<sub>ㄟ</sub>，是<sub>ㄟ</sub>大<sub>ㄟ</sub>，小<sub>ㄟ</sub>月<sub>ㄟ</sub>。

18. 一<sub>ㄟ</sub>年<sub>ㄟ</sub>的<sub>ㄟ</sub>第<sub>ㄟ</sub>一<sub>ㄟ</sub>個<sub>ㄟ</sub>月<sub>ㄟ</sub>是<sub>ㄟ</sub>( )

月<sub>ㄟ</sub>，最<sub>ㄟ</sub>後<sub>ㄟ</sub>一<sub>ㄟ</sub>個<sub>ㄟ</sub>月<sub>ㄟ</sub>是<sub>ㄟ</sub>( )月<sub>ㄟ</sub>。

19. 把<sub>ㄟ</sub>全<sub>ㄟ</sub>部<sub>ㄟ</sub>的<sub>ㄟ</sub>物<sub>ㄟ</sub>品<sub>ㄟ</sub>分<sub>ㄟ</sub>給<sub>ㄟ</sub>大<sub>ㄟ</sub>家<sub>ㄟ</sub>，每<sub>ㄟ</sub>個<sub>ㄟ</sub>人<sub>ㄟ</sub>分<sub>ㄟ</sub>到<sub>ㄟ</sub>的<sub>ㄟ</sub>都<sub>ㄟ</sub>一<sub>ㄟ</sub>樣<sub>ㄟ</sub>多<sub>ㄟ</sub>，叫<sub>ㄟ</sub>做<sub>ㄟ</sub>( )。

六、看圖回答問題：(每個答案 0 分，共 0 分)


20. 圈<sub>ㄟ</sub>圈<sub>ㄟ</sub>看<sub>ㄟ</sub>，再<sub>ㄟ</sub>回<sub>ㄟ</sub>答<sub>ㄟ</sub>問<sub>ㄟ</sub>題<sub>ㄟ</sub>。

有<sub>ㄟ</sub>18顆<sub>ㄟ</sub>水<sub>ㄟ</sub>蜜<sub>ㄟ</sub>桃<sub>ㄟ</sub>，每<sub>ㄟ</sub>6顆<sub>ㄟ</sub>裝<sub>ㄟ</sub>成<sub>ㄟ</sub>1盒<sub>ㄟ</sub>，可<sub>ㄟ</sub>以<sub>ㄟ</sub>裝<sub>ㄟ</sub>成<sub>ㄟ</sub>幾<sub>ㄟ</sub>盒<sub>ㄟ</sub>？



( )盒<sub>ㄟ</sub>

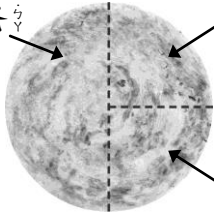
21. 看<sub>ㄟ</sub>圖<sub>ㄟ</sub>出<sub>ㄟ</sub>一<sub>ㄟ</sub>個<sub>ㄟ</sub>數<sub>ㄟ</sub>學<sub>ㄟ</sub>問<sub>ㄟ</sub>題<sub>ㄟ</sub>。



22. 有<sub>ㄟ</sub>一<sub>ㄟ</sub>個<sub>ㄟ</sub>蔥<sub>ㄟ</sub>油<sub>ㄟ</sub>餅<sub>ㄟ</sub>，像<sub>ㄟ</sub>下<sub>ㄟ</sub>面<sub>ㄟ</sub>這<sub>ㄟ</sub>樣<sub>ㄟ</sub>分<sub>ㄟ</sub>，他<sub>ㄟ</sub>們<sub>ㄟ</sub>都<sub>ㄟ</sub>分<sub>ㄟ</sub>到<sub>ㄟ</sub>全<sub>ㄟ</sub>部<sub>ㄟ</sub>的<sub>ㄟ</sub>

$\frac{1}{3}$  嗎?

爸 爸



媽 媽

弟 弟

七、回答問題：(每個答案 0 分，共 0 分)

23. 想一想，哪一個算式正確？先在□裡打√，再算出答案。

祐丞有 5 包糖果，每包有

8 顆，送給同學 10 顆後，

還剩下幾顆糖果？

$8 \times 5 = 40, 40 - 10 = ( \quad )$

$10 \times 5 = 50, 50 - 8 = ( \quad )$

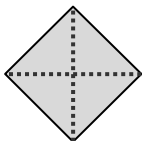
$8 \times 5 = 40, 40 + 10 = ( \quad )$

八、勾選題：(每個答案 0 分，共 0 分)

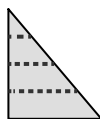
24. 下面哪些圖形有平分？在

□裡打√。

(1)

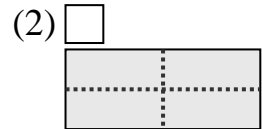
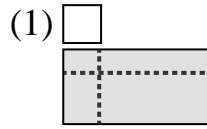


(2)



25. 下面哪些圖形有平分？在

□裡打√。



26. 誰的年紀比較大？在正確的□裡打√。

宇傑




意欣

1 歲 7 個月

18 個月

27. 哪一臺冰箱的保固期比較久？在正確的□裡打√。

保固 2 年



保固 20 個月

28. 誰說的正確？在□裡打√。

健安：7 月和 8 月都是大月。

彥辰：大月都有 31 天，小月都有 30 天。

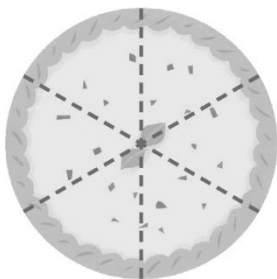
九、看圖填填看：(每個答案 0 分，共 0 分)

29.



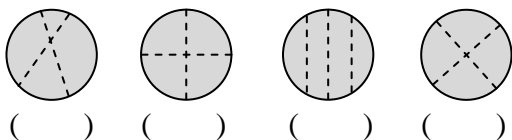
一個蛋糕平分成了 8 塊，其中的一塊是 ( ) 個蛋糕。

30.

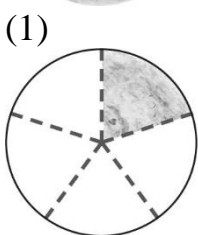


一個檸檬塔平分成6塊，其中的一塊是( )個檸檬塔。

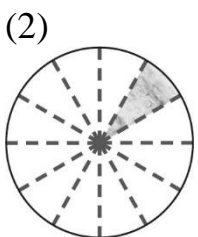
31. 下面圖形是不是平分成4份？是的畫○，不是的打×。



32. 有幾個蔥油餅？這是個蔥油餅。




( )個



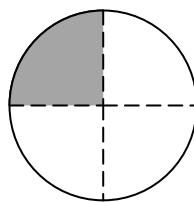
( )個

33.



一卷壽司平分成10塊，其中的一塊是( )卷壽司。

34. 塗色的部分是全部的多少？



( )

一十、在□裡填入>、<或=：(每個答案0分，共0分)

35.  $\frac{1}{2}$  □  $\frac{1}{6}$

36.  $\frac{1}{3}$  □  $\frac{1}{4}$

37.  $\frac{1}{2}$  □  $\frac{1}{4}$

38.  $\frac{1}{8}$  □  $\frac{1}{4}$