

3-1 動物的身體



1 對的畫○，錯的打×：每題3分，共18分

- (○) 不同的生活環境，有不同種類動物生存著。
2 不一定
- (×) 陸地上動物，都只有兩隻腳。
3 不同動物有不同的分法
- (×) 動物身體都可以分為頭、軀幹和四肢三個部位。
3 不同動物有不同的分法
- (○) 小狗有四隻腳，聽覺和嗅覺都非常靈敏。
- (○) 蝴蝶和麻雀都是有翅膀的動物。
- (○) 蜘蛛有八隻腳，沒有翅膀。

2 選出正確的答案：每題3分，共21分

- (2) 在樹上，可能會看到哪一種動物？
①蝦子 ②蜥蜴 ③蚯蚓 ④牛
- (3) 在學校池塘中，可能會看到哪一種動物？
①虎鯨 ②松鼠 ③魚 ④麻雀
- (1) 下面哪一種動物有六隻腳？
①蜻蜓 ②黑面琵鷺 ③臺灣黑熊 ④蜥蜴
- (2) 下面哪一種動物腳的數量最多？
①公雞 ②寄居蟹 ③老虎 ④豬
- (4) 金魚的外形有什麼特徵？
①有兩隻腳 ②有一對翅膀 ③耳朵特別長 ④身上有鱗片
- (1) 下面哪一種動物的身體是一節一節的？
①蚯蚓 ②蜥蜴 ③鴨 ④蝙蝠
- (3) 下面關於兔子的外形敘述，哪一個正確？
①沒有耳朵 ②有一對翅膀 ③後腳比前腳長 ④身上有鱗片

3 下面哪些動物的身體可以分為頭、軀幹和四肢等部位？請打√：每題4分，共24分

1. 貓 <input checked="" type="checkbox"/>	2. 金魚 <input type="checkbox"/>	3. 蜘蛛 <input type="checkbox"/>
4. 螞蟻 <input type="checkbox"/>	5. 狗 <input checked="" type="checkbox"/>	6. 羊 <input checked="" type="checkbox"/>

4 青蛙和鴨子的外形各有什麼特徵？請填入適當的代號：每題4分，共16分

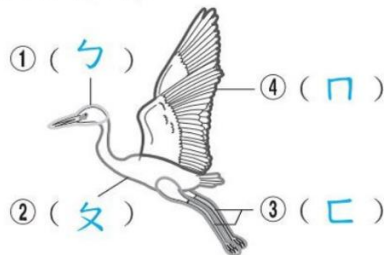
ㄅ 青蛙 ㄆ 鴨子

- (ㄅ) 有溼滑的皮膚
- (ㄅ) 有四隻腳
- (ㄆ) 身上有翅膀
- (ㄆ) 有兩隻腳

5 請在()中填入動物身體各部位的代號：每格3分，共21分

ㄅ 頭 ㄆ 軀幹 ㄇ 翅膀
ㄏ 腳 ㄏ 殼 ㄏ 腹足

1. 白鷺鷥



2. 蝸牛









1 對的畫○，錯的打×：每題4分，共32分

- (×) 動物中，只有人類會走路、跑步與跳躍。
1. 其他動物也會
- (○) 不同動物有不同的運動方式。
- (○) 兔子跳躍時，前腳會先著地。
4. 兩隻腳
- (×) 狗走路時，一次會移動四隻腳。
- (○) 鳥和蝴蝶的翅膀構造不一樣。
- (○) 蜈蚣腳的數量多，擅長爬行。
- (×) 動物的外形和他們的運動方式沒有任何關係。
7. 有關係
- (○) 白鷺鷥可以在空中飛行，是因為牠有翅膀。

2 選出正確的答案：每題4分，共24分

- (3) 下面哪一個構造，能讓青蛙在水中活動？
① 鰭 ② 翅膀 ③ 腳上的蹼 ④ 鱗片。
- (4) 下面哪一種動物不會飛？
① 蚊子 ② 老鷹 ③ 蜜蜂 ④ 猴子。
- (4) 下面哪一種動物主要運動方式是奔跑？
① 蜻蜓 ② 青蛙 ③ 烏龜 ④ 馬。
- (1) 下面哪一種動物有翅膀卻不會飛？
① 鴛鴦 ② 啄木鳥 ③ 烏鴉 ④ 麻雀。
- (1) 下面哪一種動物擅長游泳？
① 鯨魚 ② 瓢蟲 ③ 蚯蚓 ④ 馬。
- (2) 兔子擅長跳躍的原因是
① 腿上有毛 ② 後腳比前腳長 ③ 前腳比後腳長 ④ 四隻腳長短相同。

3 下面動物的主要運動方式是什麼？連連看：每題4分，共24分

1. 袋鼠 	2. 老鷹 	3. 豬 	
ㄅ 行走	ㄆ 跳躍	ㄇ 飛行	ㄎ 爬行
4. 鴛鴦 	5. 大象 	6. 蝸牛 	

4 下面動物運動時，主要會用到身體的什麼部位？對的打✓：每題4分，共8分

- | | | | |
|-------|--|--|----------------------------|
| 1. 貓 | <input checked="" type="checkbox"/> 四肢 | <input type="checkbox"/> 翅膀 | <input type="checkbox"/> 鰭 |
| 2. 蜜蜂 | <input type="checkbox"/> 四肢 | <input checked="" type="checkbox"/> 翅膀 | <input type="checkbox"/> 鰭 |

5 下面關於動物身體構造與運動方式的敘述，對的打✓：每題3分，共12分

- (✓) 鴨子的腳上有蹼，所以能在水裡划水前進。
- (✓) 馬的四隻腳長短、粗細大致相同，因此擅長奔跑。
- () 青蛙的前腳比後腳發達有力，所以能跳得又高又遠。
- (✓) 魚能利用鰭的擺動在水裡游泳。



1 對的畫○，錯的打×：每題3分，共24分

- (×) 鸵鳥有翅膀，所以擅長飛行。
1. 鸵鳥不會飛
- (×) 貓會以行走或跑步來移動位置，無法跳躍。
2. 會跳躍
- (○) 蚯蚓主要的運動方式是爬行。
3. 會跳躍
- (×) 所有動物的腳都具有相同構造。
4. 不同
- (×) 鵝和蜥蜴的腳上都有蹼。
5. 蜥蜴沒有
- (○) 青蛙能在陸地上跳躍，也能在水裡游泳。
- (×) 能在水裡游泳的動物都有鰭。
7. 有些沒有
- (○) 雞的腳上沒有蹼，無法在水上游泳。

2 選出正確的答案：每題4分，共24分

- (3) 下面哪一種動物的主要運動方式和馬不同？
①貓 ②狗 ③蛇 ④老虎。
- (2) 鴨子會游泳和身體的哪一個構造有關？
①有翅膀 ②腳上有蹼 ③身上有毛 ④有長短不同的腳。
- (3) 下面哪一種動物的主要運動方式和其他三種動物不同？
①獅子 ②人 ③白鷺 ④老虎。
- (1) 下面哪一種動物能在水中運動？
①金魚 ②兔子 ③袋鼠 ④蝴蝶。
- (3) 狗和羊擅長的運動方式是？
①飛行 ②爬行 ③行走 ④游泳。
- (2) 可以利魚鰭游泳，也可以泥地彈跳移動的動物是？
①牛 ②彈塗魚 ③貓 ④鳥。

3 下面動物的主要運動方式和所利用的身體部位是什麼？連連看：每線3分，共24分

1. 蝸牛	2. 兔子	3. 魚	4. 蜻蜓
ㄅ 跳躍	ㄆ 爬行	ㄇ 飛行	ㄏ 游泳
① 腹足	② 腳	③ 鰭	④ 翅膀

4 運動會規定動物要依自己擅長的運動方式報名比賽，下面哪些動物可以報名爬行比賽？請打✓：每題2分，共16分

1. 鸵鳥	2. 蜈蚣	3. 蜥蜴	4. 大象
5. 蚯蚓	6. 雞	7. 袋鼠	8. 金魚

5 下面關於鳥類的敘述，對的打✓：每題3分，共12分

- ✓ 有一對翅膀
- 不會游泳
- ✓ 身上有羽毛
- ✓ 不一定會飛

1 對的畫○，錯的打×：每題4分，共32分

- 2-2 1. (○) 水受熱變成水蒸氣的過程，稱為蒸發。
2. (○) 從冰箱中拿出水果，過一會兒水果表面就會出現許多小水滴。 4. 會不方便
- 2-3 3. (○) 水蒸氣可以燙平衣服和蒸熟食物。
4. (×) 生活中缺少水時，並不會不方便。
- 3-1 5. (×) 狗的身體可以分為頭、軀幹、四肢和翅膀。 5. 狗沒有翅膀
- 3-2 6. (×) 所有的鳥類都會飛行。 6. 有些不會飛行
7. (×) 袋鼠的運動方式和牠的外形沒有關係。 7. 有關係
8. (○) 昆蟲的翅膀是薄膜狀；鳥類的翅膀是由骨骼、肌肉和羽毛構成。

2 選出正確的答案：每題4分，共20分

- 2-2 1. (2) 水蒸氣有什麼特性？ ①是白色的 ②看不見 ③有特殊香味 ④摸起來硬硬的。
- 2-3 2. (3) 做下面哪件事時，可能會應用到水蒸氣？ ①澆花 ②保鮮蝦類 ③蒸蛋 ④拖地。
3. (4) 哪一組是水溫度下降後，會產生的形態變化？ ①融化和蒸發 ②融化和凝固 ③凝結和蒸發 ④凝結和凝固。
- 3-2 4. (3) 下面哪一種動物主要運動方式和兔子相同？ ①企鵝 ②白鷺鷥 ③青蛙 ④獅子。

- 3-2 5. (1) 下面哪一種動物是用腹足在地面上爬行的？ ①蝸牛 ②烏龜 ③蜥蜴 ④蜈蚣。

- 2-2 3 哪一個方法能讓水寫紙中的水蒸發得比較快？在○中打✓：每答4分，共8分


組別	實驗方法
甲	<input checked="" type="checkbox"/> 水寫紙不包在夾鏈袋中 <input type="checkbox"/> 把水寫紙包在夾鏈袋中
乙	<input checked="" type="checkbox"/> 把水寫紙放在陽光下 <input type="checkbox"/> 把水寫紙放在地下室

- 3-2 4 下面動物運動時，主要會用到身體的哪一個部位？連連看：每題4分，共12分

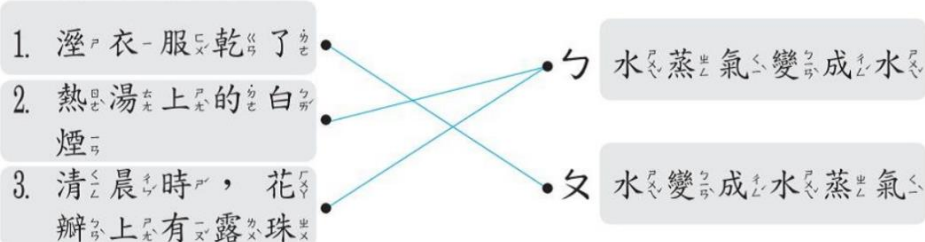
1. 青蛙跳躍 2. 麻雀飛行 3. 金魚游泳



- 3-2 5 下面哪些動物的腳上有蹼？在○中打✓：每題4分，共16分



- 2-2 6 把下面各種生活中的實例和水的變化情形連起來：每題4分，共12分





1 對的畫○，錯的打×：每題4分，共24分

- (○) 我們可以以依據動物的運動方式幫牠們作分類。
- (○) 利用動物的身體特徵做分類，可以讓我們更加認識動物。
- (○) 人類的許多發明和動物的身體構造有關。
- (×) 把蝦子和蚯蚓分在同一類，是用「有沒腳」來做分類。
4. 蝦子有腳
- (×) 用「會不會游泳」為動物分類時，魚和海龜不會分在同一類。
5. 會在同一類
- (×) 把動物分成有翅膀和沒有翅膀，是唯一分類方式。
6. 還有許多其他方式

2 選出正確的答案：每題4分，共24分

- (4) 下面哪一個不適合做為動物的分類標準？
①會不會飛 ②有沒腳 ③會不會游泳 ④會不會開花結果
- (2) 下面哪一組動物都有四隻腳？
①鯊魚和猴子 ②馬和羊 ③青蛙和蛇 ④老虎和蝦子
- (3) 國術中猴拳的發明可能和哪一種動物有關？
①老鼠 ②貓 ③猴子 ④狗
- (2) 下面哪一個發明可能和蜘蛛有關？
①坦克車 ②捕魚網 ③船槳 ④飛機
- (1) 下面哪一種動物可以用靈活的手臂在樹枝間盪盪去？
①猴子 ②貓 ③狗 ④袋鼠

- (3) 下面哪一種動物有兩隻腳，腳上有蹼，會游泳？
①麻雀 ②牛 ③鴨子 ④螳螂

3 下面的發明可能和哪些動物的外形或特徵有關？連連看：每題4分，共16分

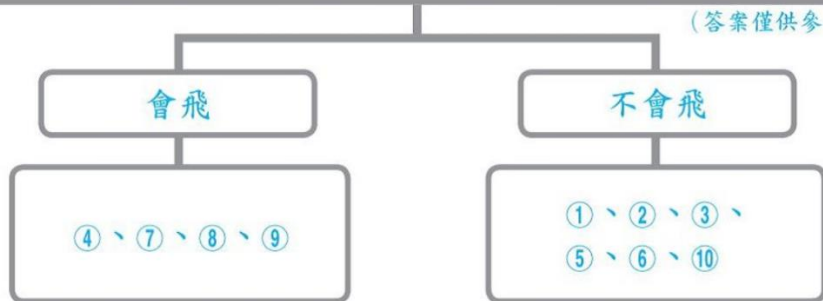
1. 蛙鞋 	2. 吸盤 	3. 雷達 	4. 飛機
5. 鳥 	6. 青蛙 	7. 章魚 	8. 蝙蝠

Connections: 蛙鞋 connects to 蝙蝠; 吸盤 connects to 章魚; 雷達 connects to 鳥; 飛機 connects to 青蛙.

4 請把下面的動物分成兩組，並填入分類的依據及動物的代號：每答3分，共36分

- | | | | | |
|----|-----|-----|-----|-----|
| ①狗 | ②金魚 | ③青蛙 | ④蜻蜓 | ⑤蛇 |
| ⑥貓 | ⑦鴿子 | ⑧蝴蝶 | ⑨蒼蠅 | ⑩蚯蚓 |

(答案僅供參考)





1 對的畫○，錯的打×：每題3分，共21分

- (○) 在相同的时间和地点，用不同口径平底直筒容器接雨水，容器内的雨水高度会相同。
- (○) 下过雨后，天空的雲量会比较少，雲的颜色会变浅。3. 也可以用儀器測量
- (×) 天氣的冷熱只能用人的身體感覺。
- (×) 在臺灣，我們大多以華氏(°F)來表示溫度。4. 攝氏(°C)
- (○) 測量一天氣溫變化時，要在同一地點的不同時間測量。
- (○) 下雨時，我們可以利用戶外直筒容器收集雨水來測量雨量。
- (○) 我們可以從雲量、雲的颜色和形狀來觀測天氣的變化。

2 選出正確的答案：每題4分，共24分

- (3) 一天中氣溫最高的時間可能是在
①清晨4點 ②上午8點 ③下午1點 ④晚上7點。
- (2) 下面哪一個地點比較適合測量氣溫呢？
①密閉的地下室 ②通風的走廊 ③太陽下操場 ④冷氣機旁。
- (1) 下雨前，天空中可能出現什麼景象？
①雲是灰灰黑黑的 ②一絲一絲的白雲 ③雲量變少 ④天空變亮。
- (4) 一般來說，哪一種天氣時的氣溫最高？
①陰天 ②雨天 ③颱風天 ④晴天。

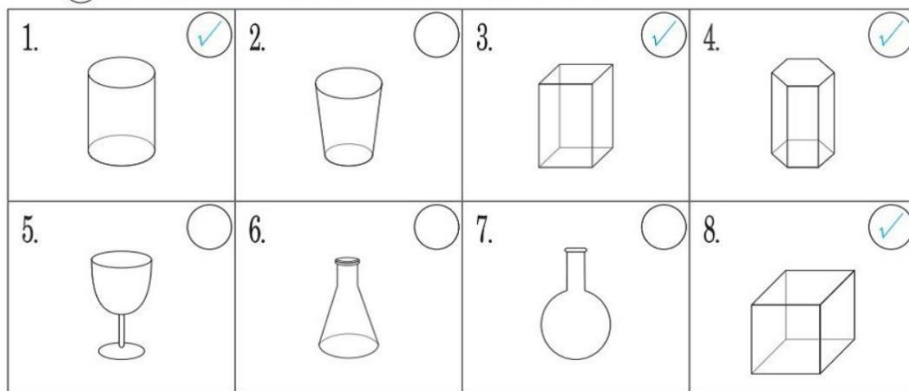
5. (1) 下面哪一個項目沒有辦法幫助我們觀測天氣？
①月形 ②氣溫 ③雨量 ④雲量。

6. (3) 風變大了，可能會讓人感覺
①比較熱 ②比較悶 ③比較涼爽 ④沒感覺。


3 使用氣溫計時要注意哪些事情？對的打✓：每題3分，共15分

- (✓) 氣溫計不要靠近冰冷或東西。
- () 讓太陽直接照射氣溫計。
- (✓) 手不可碰觸球狀液囊。
- (✓) 避免對著氣溫計吹氣。
- () 讀溫度時，眼睛要低於球狀液囊。

4 請找出適合用來測量雨量的容器，在中打✓：每題3分，共24分



5 下面哪些地點適合測量雨量呢？在中打✓：每題4分，共16分





1 對的畫○，錯的打×：每題3分，共21分

- (○) 我們可以透過實際觀察，知道現在的天氣。
- (○) 撥打167氣象語音電話可以查詢氣象資訊。
- (○) 氣象局提供不同的天氣預報給民眾選擇、查詢。
- (×) 一週天氣預報的內容包含了整個月的天氣資訊。
4 包含一週的天氣資訊
- (○) 從旅遊天氣預報中，可以了解各個觀光景點的天氣狀況。
- (×) 從國際都市天氣預報，可以知道世界各地經濟狀況。
6 天氣狀況
- (○) 同一天臺灣各地的天氣不太一樣。

2 選出正確的答案：每題4分，共16分

- (2) 漁業氣象預報可以讓什麼行業的人判斷工作是否安全？
①農夫 ②漁夫
③公車司機 ④飛機機長。
- (1) 下面哪一級數的風表示風力最強？
①7級 ②5級 ③3級 ④2級。
- (3) 祐祐的爸爸去海釣前，可能會看哪一種氣象預報？
①國際都市天氣預報 ②一週天氣預報 ③漁業氣象預報 ④旅遊天氣預報。
- (4) 上氣象局網站無法了解什麼資訊？
①目前天氣 ②舒適度 ③颱風消息
④國家歷史。

3 下面哪些方法可以讓我們知道未來幾天的天氣狀況？請打✓，不可以的打×：每題4分，共24分

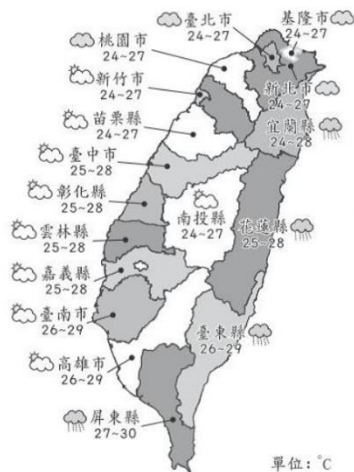
1. 看氣象新聞 <input checked="" type="checkbox"/>	2. 撥打166查詢 <input checked="" type="checkbox"/>	3. 看報紙氣象欄 <input checked="" type="checkbox"/>
4. 聽氣象廣播 <input checked="" type="checkbox"/>	5. 上網查詢 <input checked="" type="checkbox"/>	6. 查字典 <input type="checkbox"/>

4 氣象預報可能包含哪些項目？在○中打✓：每題3分，共18分

- | | |
|---|--|
| 1. <input checked="" type="checkbox"/> 氣溫 | 2. <input checked="" type="checkbox"/> 紫外線指數 |
| 3. <input checked="" type="checkbox"/> 風力 | 4. <input checked="" type="checkbox"/> 天氣狀況 |
| 5. <input checked="" type="checkbox"/> 風向 | 6. <input checked="" type="checkbox"/> 降雨機率 |

5 下圖是某一天的天氣預報圖，看圖回答問題：每答3分，共21分

- 臺北市的天氣是
(晴, **陰**, 雨) 天，
最低氣溫 (**24**) °C，
最高氣溫 (**27**) °C。
- 可能下雨的地方是：
(**宜蘭縣**)、
(**花蓮縣**)、
(**臺東縣**)、
(**屏東縣**)。



單位：°C

三下 第17回 4-3 天氣對生活的影響

1 對的畫○，錯的打×：每題3分，共18分

- (○) 我們的生活作息和天氣變化息息相關。
- (×) 梅雨發生在東亞地區的5、6月，此時雪經常下不停。
2 雨常下不停
- (○) 為了避免出現缺水危機，平常就要節約用水。
- (○) 我們可以根據氣象預報，針對特殊天氣做好相關防範措施。
5 突然降低
- (×) 寒流來襲時，氣溫會突然升高。
- (×) 下大雨時，平地比山區容易發生土石流。
6 山區較易發生

2 選出正確的答案：每題3分，共15分

- (4) 在臺灣比較不常發生下面哪一種特殊的天氣狀況？
①颱風 ②豪雨 ③寒流 ④龍捲風
- (3) 下面哪一種天氣狀況容易使魚類凍死？
①地震 ②豪雨 ③寒流 ④焚風
- (1) 颱風來襲時，不可以做什麼事？
①到海邊觀浪 ②在家休息 ③注意氣象報告 ④儲水備用
- (1) 打雷時，要避免做什麼事？
①站在樹下 ②在家看電視 ③在圖書館看書 ④在超市買菜
- (2) 寒流來襲時，應該做什麼防範措施呢？
①出門帶傘 ②穿保暖衣物 ③實施限水 ④修剪樹木

3 想在臺灣進行戶外活動時，我們可以參考氣象預報的哪些資料？請打✓：每題2分，共16分

- 颱風警報
- 各地氣溫
- 海上風力
- 紫外線指數
- 地震預報
- 豪大雨特報
- 降雨機率
- 國外氣溫

4 下面天氣狀況可能會對生活與生態環境造成哪些影響？請打✓：每格3分，共27分

天氣狀況	造成的影響
1. 豪雨	<input checked="" type="checkbox"/> 淹水 <input checked="" type="checkbox"/> 形成土石流 <input type="checkbox"/> 樹木被吹倒
2. 久旱不雨	<input checked="" type="checkbox"/> 植物枯死 <input checked="" type="checkbox"/> 水庫缺水 <input type="checkbox"/> 建築物毀損
3. 焚風	<input checked="" type="checkbox"/> 行道樹葉枯黃 <input checked="" type="checkbox"/> 農作物損壞 <input type="checkbox"/> 讓魚凍死

5 颱風來臨前，可以做哪些預防措施減少損害呢？在○中打✓：每題4分，共24分

- 修剪樹木
- 固定廣告招牌
- 外出時戴墨鏡
- 檢查門窗是否牢固
- 疏通水溝
- 把車子停到地勢較高的地方



1 對的畫○，錯的打×：每題4分，共24分

- 3-3 1. (○) 人類因為動物身體體構造的啟發，而發明許多東西，如蛙鞋。
2. (○) 鴨子和青蛙可以用「腳趾間有沒蹼」分在同一類。
- 4-1 3. (○) 比較一天中的溫度變化時，要在同一個地方測量。
4. (×) 打雷時，要趕快躲在樹下。 4. 避免躲在樹下
- 4-2 5. (○) 風力的級數愈大，表示風力愈強。
6. (○) 要出國前，我們可以從國際都市天氣氣預報中，知道該如何準備衣物。

2 選出正確的答案：每題4分，共24分

- 3-3 1. (4) 用「有沒翅膀」為動物分類時，蝴蝶會和哪一種動物分在同一類？
①蚯蚓 ②牛 ③蜘蛛 ④麻雀。
2. (3) 人類發明吸盤可能是模仿下面哪一種動物的外形構造？
①麻雀 ②蝙蝠 ③章魚 ④猴子。
- 4-2 3. (2) 從天氣預報中，我們可以得到什麼訊息？
①失業率 ②紫外線指數 ③政府新措施 ④好人好事代表。
4. (1) 下面哪一種方法不能知道未來幾天的天氣狀況？
①查百科全書 ②看氣象新聞 ③撥打167 ④查閱報紙。
- 4-3 5. (1) 颱風來襲前，什麼方法可以減少損害？
①疏通水溝 ②戴太陽眼鏡 ③出門撐傘 ④外出釣魚。

4-3 6. (4) 下面哪一種情況會形成土石流？

- ①久旱不雨 ②寒流 ③焚風 ④豪大雨。

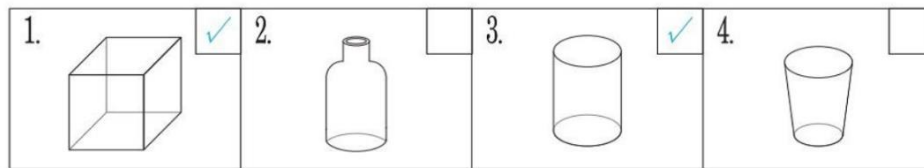
4-1 3 下面哪些地方比較適合測量氣溫？請打

✓：每題4分，共16分

1. 通風的走廊 2. 陽光直射的操場
3. 陰涼的角落 4. 密閉的地下室

4-1 4 下面哪些容器適合用來測量雨量？請打

✓：每題3分，共12分



4-2 5 根據下表回答問題：每格3分，共24分

一週天氣預報							單位：°C
	6/6 星期六	6/7 星期日	6/8 星期一	6/9 星期二	6/10 星期三	6/11 星期四	6/12 星期五
北部地區	21~32	22~31	22~32	22~32	22~31	21~30	21~31
中部地區	24~31	24~32	24~32	24~33	23~32	23~31	23~32
南部地區	24~32	24~32	25~32	25~33	24~33	22~32	21~32
東部地區	23~30	23~31	23~32	23~32	22~28	22~29	22~30

1. 南部地區 6月10日可能是 (晴) 天。
2. 北部地區 6月12日可能是 (雨) 天，氣溫在 (21) °C ~ (31) °C，最高溫和最底溫相差 (10) °C。
3. 東部地區 星期四天氣可能 (雨) 天。
4. 中部地區 在 6月 (8) 日和 6月 (9) 日可能都是晴天。

1 對的畫○，錯的打×：每題2分，共18分







- 3-1. (×) 所有鳥類都有翅膀，所以也都飛。 1. 不一定 2. 蝸牛沒有腳
2. (×) 麻雀和蝸牛都是有腳的動物。
- 3-2. 3. (×) 青蛙的腳上有蹼，卻無法在水裡運動。 3. 可以
- 3-3. 4. (○) 人類可能因為看到鳥類飛翔而發明飛機。
- 4-1. 5. (×) 在同一個地點，晴天氣溫通常比雨天氣溫低。 5. 高
6. (○) 測量雨量時要用平底直筒的容器。
- 4-2. 7. (○) 外出旅遊前注意紫外線指數，可以做好防晒準備。
8. (○) 氣象預報中的降雨機率，可以提醒大家明天會不會下雨。
- 4-3. 9. (×) 臺灣不曾下過冰雹。 9. 曾下過

2 選出正確的答案：每題3分，共24分

- 3-1. 1. (1) 狗的身體可以分成哪些部位？
 ①頭、軀幹和四肢 ②頭、軀幹、翅膀和腳 ③殼、頭和腹足 ④頭、翅膀和四肢
2. (4) 耳朵像扇子，鼻子像水管的動物是？
 ①狗 ②兔子 ③袋鼠 ④大象
- 3-2. 3. (2) 馬擅長奔跑，牠腿部的特徵是？
 ①長短不同，粗細不同 ②長短和粗細大致相同 ③前腳比後腳粗壯 ④後腳比前腳粗壯

- 3-2. 4. (3) 下面哪一種動物的主要運動方式和麻雀不一樣？
 ①蛇 ②鳥 ③鴿子 ④豬
- 3-3. 5. (4) 吸盤的發明可能和下面哪一種動物有關？
 ①猴子 ②雞 ③蝙蝠 ④章魚
- 4-2. 6. (1) 到日本旅遊前要看什麼天氣預報？
 ①國際都市天氣預報 ②一週天氣預報 ③漁業氣象預報 ④旅遊天氣預報
- 4-3. 7. (1) 下面哪一種天氣比較不適合外出？
 ①颱風天 ②陰天 ③晴天 ④晴天時多雲
8. (3) 下面哪一種天氣狀況容易讓植物枯死？
 ①豪雨 ②颱風 ③乾旱 ④寒流

3-2 3 下面哪些動物不會飛行？請打✓：每題2分，共12分

1. 青蛙 <input checked="" type="checkbox"/>	2. 袋鼠 <input checked="" type="checkbox"/>	3. 蜻蜓 <input type="checkbox"/>
		
4. 蚯蚓 <input checked="" type="checkbox"/>	5. 羊 <input checked="" type="checkbox"/>	6. 鸕鶿 <input checked="" type="checkbox"/>
		


3-3 4 把下面動物依「有沒有腳」進行分類，在表格中填入代號：每答2分，共16分

有腳	ㄅ、ㄆ、ㄇ、ㄏ、ㄏ
沒有腳	ㄐ、ㄑ、ㄒ

4-1 5 下面關於觀測天氣的敘述，對的打✓，不對的打×：每題3分，共12分

- 1. 一天中，氣溫最高的時間是在早上。
- 2. 測量氣溫時，要選擇通風的地方。
- 3. 看到大片灰黑色的雲，表示快下雨了。
- 4. 同一天同一地點，氣溫會隨著時間改變。

4-1 6 下圖中的氣溫計分別是幾度呢？請在()中寫出正確的答案：每題2分，共6分



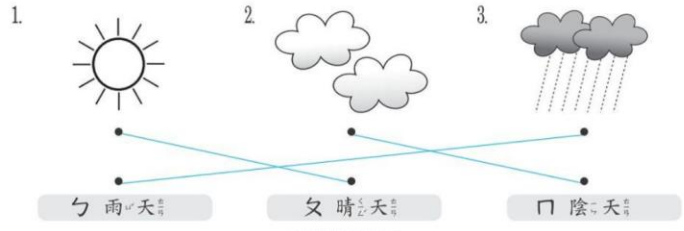
(30) 度 (25) 度 (15) 度

4-3 7 針對特殊的天氣狀況，可以用什麼方法因應？請填入代號：每題2分，共6分

- ㄅ 穿厚衣物
- ㄆ 疏通水溝
- ㄇ 節約用水
- ㄎ 固定招牌

- 1. (ㄎ) 豪雨
- 2. (ㄅ) 寒流
- 3. (ㄇ) 久旱不雨

4-1 8 下面3張圖各是代表什麼天氣狀況？連連看：每題2分，共6分



三下自生 40



課本
習作
課堂練習
作業簿
學習評量單